



T.C.

MİLLÎ EĞİTİM BAKANLIĞI
ÖLÇME, DEĞERLENDİRME VE SINAV HİZMETLERİ
GENEL MÜDÜRLÜĞÜ

A

KİTAPÇIK TÜRÜ

HAYAT BOYU ÖĞRENME GENEL MÜDÜRLÜĞÜ MESLEKİ VE TEKNİK AÇIK ÖĞRETİM OKULU
ELGİNKAN VAKFI BİLGİSAYAR DESTEKLİ 2 BOYUTLU ÇİZİM AUTOCAD 13. GRUP (2017/BDPÇ-2) SINAVI
07/10/2017

Adayın Adı ve Soyadı :

Aday Numarası (T.C. Kimlik No) :

ALAN	SORU SAYISI	SINAV SÜRESİ (DAKİKA)
AUTOCAD	100	100

ADAYLARIN DİKKATİNE!

1. Sınav saat **14.00**'te başlayacaktır. Sınav başladıktan sonra ilk **30** dakika tamamlanmadan dışarı çıkmayınız.
2. Sınav sırasında çanta, cep telefonu, saat, kablosuz iletişim sağlayan cihazlar ve kulaklık, kolye, küpe, bilezik, yüzük, broş ve benzeri eşyalar ile her türlü elektronik ve/veya mekanik cihazları yanınızda bulundurmayınız. Bu araçları yanınızda bulundurmanız ve kopya çekmeye teşebbüs etmeniz hâlinde sınavınız geçersiz sayılacaktır.
3. Başvuru şartlarını taşımadığınız hâlde sınava girmeniz, kopya çekmeniz, başka adayın sınav evrakını kullanmanız, geçerli kimlik belgenizi ve sınav giriş belgenizi ibraz edemediğiniz durumlarda sınavınız geçersiz sayılacaktır.
4. Sınavın değerlendirilmesi aşamasında, bilgisayar ortamında yapılan kopya analizinde sistemin ikili ve/veya toplu kopya tespiti hâlinde sınavınız geçersiz sayılacaktır.

CEVAP KÂĞIDI VE SORU KİTAPÇIĞI İLE İLGİLİ AÇIKLAMALAR

1. Cevap kâğıdınızdaki bilgilerin doğruluğunu kontrol ediniz ve cevap kâğıdınızı mürekkepli kalemle imzalayınız.
2. Kitapçık türünüzü cevap kâğıdınızdaki ilgili alana kodlayınız. Değerlendirme işlemleri cevap kâğıdındaki kodlamalara göre yapıldığından eksik ya da hatalı kodlamalarda sorumluluk size ait olacaktır.
3. Cevap kâğıdı üzerinde kodlamalarınızı siyah kurşun kalemle yapınız.
4. Değiştirmek istediğiniz bir cevabı, yumuşak silgiyle cevap kâğıdını örselemeden temizce siliniz ve yeni cevabınızı kodlayınız.
5. Soru kitapçığının sayfalarını kontrol ediniz, baskı hatası var ise değiştirilmesini sağlayınız.
6. Soru kitapçığının ön yüzündeki ilgili yerlere ad, soyad ve T.C. kimlik numaranızı yazınız.
7. Her sorunun **BEŞ** seçeneğinden sadece biri doğrudur. Doğru seçeneği, cevap kâğıdınızın ilgili sütununa soru numarasını dikkate alarak yuvarlağın dışına taşırmadan kodlayınız. **Soru kitapçığı üzerinde yapılan cevaplandırmalar dikkate alınmayacaktır.**
8. Yanlış cevaplarınız dikkate alınmadan sadece doğru cevaplarınız üzerinden puanlama yapılacaktır.
9. Soruları ve sorulara verdiğiniz cevapları, yanınızda götürmek amacıyla kaydetmeyiniz; hiçbir şekilde dışarı çıkarmayınız.
10. Sınav bitiminde, soru kitapçığı ve cevap kâğıdını salon görevlilerine teslim ediniz.

BAŞLAYINIZ DENMEDEN SORU KİTAPÇIĞINI AÇMAYINIZ.

BİLGİSAYAR DESTEKLİ 2 BOYUTLU ÇİZİM AUTOCAD 13. GRUP (2017/BDPÇ-2) SINAVI A

1. Aşağıdakilerden hangisi CAD (Computer Aided Design) kelimesinin karşılığıdır?

- A) Teknik resim
- B) Metin düzenleme
- C) Resim düzenleme
- D) Bilgisayar destekli üretim
- E) Bilgisayar destekli çizim ve tasarım

2. 150 mm uzunluğunda ve 15° lik bir çizgi çizilmek istendiğinde komut satırına aşağıdakilerden hangisi yazılmalıdır?

- A) @150<15°
- B) @15°<150
- C) 150<15°
- D) @150,15
- E) 150,15°

3. Aşağıdakilerden hangisi uzunluk anlamına gelir?

- A) Horizontal
- B) Length
- C) Width
- D) Angular
- E) Vertical

4. Aşağıdakilerden hangisi açığortay anlamına gelir?

- A) Horizontal
- B) Vertical
- C) Bisect
- D) Angular
- E) Chamfer

5. Aşağıdaki komut - kısaltma birlikteliklerinden hangisi yanlış verilmiştir?

- A) Move - m
- B) Layer - la
- C) Scale - sc
- D) Offset - o
- E) Rectangle - re

6. Aşağıdaki komut - kısaltma birlikteliklerinden hangisi yanlış verilmiştir?

- A) Boundary - bo
- B) Block - bc
- C) Linetype - lt
- D) Copy - co
- E) Dimstyle - d

7. Aşağıdakilerin hangisinde verilen komutun işlevi yanlış yazılmıştır?

- A) Match Properties - Özellik eşleme
- B) Properties - Özellik tanımlama
- C) Linetype - Çizgi tipi
- D) Scale - Sündürme
- E) Trim - Budama

8. Aşağıdaki AutoCAD ile ilgili terimlerden hangisinin Türkçe karşılığı yanlıştır?

- A) Workspaces - Çekme menü
- B) Tool palettes - Araç paletleri
- C) Line type scale - Çizgi tipi ölçeği
- D) Construction line - Sonsuz çizgi çizer
- E) Application menu - Uygulama menüsü

9. AutoCAD'de aşağıdakilerden hangisi enter tuşunun işlevini görür?

- A) Fare Sol Tuş
- B) Space Bar
- C) Alt
- D) Ctrl
- E) Alt Gr

10. AutoCAD'de çizim pencerelerinin yönetimini sağlayan komutlar hangi çekme menüsü altında toplanmıştır?

- A) Draw
- B) Dimension
- C) Window
- D) Modify
- E) File

11. AutoCAD'de araç çubukları aşağıdakilerden hangisi ile çalışma ekranına getirilir?

- A) Edit çekme menüsünden Find
- B) Menü çubuğu üzerinde sağ tuş
- C) Modify çekme menüsünden Properties
- D) Tools çekme menüsünden Toolbars altından AutoCAD
- E) Programın herhangi bir yerinde fare ile sağ klik yaparak

12. Aşağıdakilerden hangisiyle AutoCAD programına lisp eklenir?

- A) Edit çekme menüsünden Autolisp
- B) Format çekme menüsünden Autolisp
- C) İnsert çekme menüsünden Load Application
- D) Tools çekme menüsünden Autolisp ve Load Application
- E) Modify çekme menüsünden Autolisp ve Load Application

13. AutoCAD'de herhangi bir resim çizim alanına aşağıdakilerden hangisiyle getirilir?

- A) Insert çekme menüsünden - Field komutuyla
- B) Insert çekme menüsünden - Jpeg komutuyla
- C) Insert çekme menüsünden - Block komutuyla
- D) Modify çekme menüsünden - Object komutuyla
- E) Insert çekme menüsünden - Raster image komutuyla

14. Aşağıdakilerden hangisi son yapılan işlemden itibaren geri alma komutudur?

- A) Redo
- B) Table
- C) Undo
- D) Clear
- E) Hatch

15. AutoCAD'de program arayüzleri arasında geçiş yapılmasını sağlayan komut aşağıdakilerden hangisidir?

- A) Workspace
- B) Clean Screen
- C) Annotation
- D) Quick View
- E) Layout

16. Aşağıdaki klavye kısa yollarından hangisinin işlevi yanlış verilmiştir?

- A) Ctrl + O: Kaydedilmiş dosya aç
- B) Ctrl + Q: Farklı kaydet
- C) Ctrl + C: Kopyala
- D) Ctrl + V: Yapıştır
- E) Ctrl + S: Kaydet

17. AutoCAD program penceresinde sol üst köşede yer alan araç çubuğunun adı nedir?

- A) Menu Bar
- B) Application Menü
- C) Quick Access Toolbar
- D) Workspace Switching
- E) Customize User Interface

18. AutoCAD'de araç paletlerini (Tool Palettes) açıp / kapatan klavye kısa yolu aşağıdakilerden hangisidir?

- A) Ctrl + 0
- B) Ctrl + 1
- C) Ctrl + 2
- D) Ctrl + 3
- E) Ctrl + 8

19. Mutlak (Absolute) koordinatlarla çizim yaparken nokta koordinatlarının klavyeden yazılımı aşağıdakilerden hangisidir?

- A) @X, Y
- B) X, Y
- C) @L <Açı
- D) L@X, Y
- E) X@ Y

20. Açık olan çizim dosyasından bir başka dosyaya herhangi bir nesneyi taşımak için hangi komut kullanılır?

- A) Pasteclip
- B) Move
- C) Copy
- D) Copyclip
- E) Cutclip

21. UCS'nin görünüp görünmemesini sağlayan komut aşağıdakilerden hangisidir?

- A) UCS
- B) WCS
- C) WORLD
- D) UCSICON
- E) DUCS

22. AutoCAD çizim dosyasında gerekli stilleri, katmanları, ölçü birimini vb. ayarladıktan sonra bu dosya şablon (template) olarak aşağıdakilerden hangisiyle saklanır?

- A) Save as/Dosya tipi/Drawing Template seçilir.
- B) Publish
- C) Save +
- D) Sheet
- E) New

23. AutoCAD'de açık olan bir projenin içindeki bozulmuş öge ve nesnelere bularak düzelten komut aşağıdakilerden hangisidir?

- A) Recover
- B) Audit
- C) Purge
- D) Layers
- E) Erase

24. AutoCAD'de, plot penceresinde hazır kalem stillerinin seçildiği ve yeni kalem stili oluşturulabilen bölüm aşağıdakilerden hangisidir?

- A) Plot area
- B) Plot scale
- C) Page setup
- D) Paper size
- E) Plot style table

25. Bloklar, stiller, katmanlar vb. yeniden adlandıran komut aşağıdakilerden hangisidir?

- A) Name
- B) Replace
- C) New
- D) Rename
- E) Redraw

26. AutoCAD'de seçilen bir nesnenin biçimsel tüm özelliklerini aynı nitelikteki başka bir nesneye aktararak değiştiren komut aşağıdakilerden hangisidir?

- A) Copy
- B) Region
- C) Layers
- D) Measure
- E) Match Properties

27. AutoCAD'de bir nesnenin bütün özelliklerini tanımlayan ve değiştirmeye olanak tanıyan komut aşağıdakilerden hangisidir?

- A) View
- B) Dimension style
- C) Properties
- D) Match properties
- E) İnsert

28. Utilities paneli üzerinde bulunan ve hesap makinesi görevini yapan komut aşağıdakilerden hangisidir?

- A) Properties
- B) Send
- C) Design Center
- D) Publish
- E) Quick Calculator

29.  File çekme menüsünde yer alan yan taraftaki simge hangi komutu çalıştırır?

- A) Zoom Realtime
- B) Zoom Dynamic
- C) Kopyala
- D) Hatch
- E) Plot Preview

30.  Yan taraftaki simge zoom komutlarından hangisini çalıştırır?

- A) Zoom Realtime
- B) Zoom Dynamic
- C) Zoom Previous
- D) Zoom Scale
- E) Zoom Extent

31.  Clipboard paneli üzerinde yer alan yan taraftaki simge hangi komutu çalıştırır?

- A) Delete
- B) Paste
- C) Trim
- D) Cut
- E) Save

32. Açık olan AutoCAD çizim dosyasında tanımlanmış sınırlar ile birlikte çizilen tüm nesnelerin görülmesini sağlayan zoom komutu klavyeden nasıl kullanılır?

- A) Zoom - a
- B) Zoom - v
- C) Zoom - c
- D) Zoom - p
- E) Zoom - e

33. Aşağıdaki zoom komutlarından hangisi eşzamanlı büyültme / küçültme yapar?

- A) Pan
B) Realtime
C) Previous
D) Window
E) Object

34. Pan komutu aşağıdakilerden hangisini yapar?

- A) Ekranı kaydırır.
B) Çizilmiş nesnelere hareket ettirir.
C) Görüntüyü yaklaştırır / uzaklaştırır.
D) Nesnelere ölçekli olarak büyütüp / küçültür.
E) Üç boyutlu olarak görüntünün çevresinde döner.

35. Çizimde tanımlanmış sınırlar ile birlikte tüm nesnelere ekrana sığdıran zoom komutu aşağıdakilerden hangisidir?

- A) Pan
B) Window
C) Dynamic
D) Scale
E) All

36.  Yan tarafta yer alan simge zoom komutlarından hangisini çalıştırır?

- A) Object
B) Center
C) Previous
D) Extends
E) All

37. AutoCAD'de yeni bir nesne üretmeye (çizmeye) yarayan komutlar hangi çekme menüsü altında toplanmıştır?

- A) Draw
B) Dimension
C) Help
D) Format
E) Modify

38. AutoCAD programında çokgen çizmek için kullanılan komut aşağıdakilerden hangisidir?

- A) Poliline
B) Region
C) Polygon
D) Multiline
E) Circle

39. Polygon komutu ile aşağıdakilerden hangisi yapılmaz?

- A) Üçgen
B) Beşgen
C) Çember
D) Altıgen
E) Kare

40. Seçilen noktalara göre eğri çizen komut aşağıdakilerden hangisidir?


- A) Xline
B) Pline
C) Mline
D) Line
E) Spline

41. Çizilmiş iki çember arasına teğet ve yarıçapı bilinen başka bir çember çizmek için Circle komutu hangi alt parametresi ile birlikte kullanılır?

- A) 2P
B) 3P
C) Ttr
D) Tt
E) D

42. AutoCAD'de tek satırlık yazı yazılmasını sağlayan komut aşağıdakilerden hangisidir?

- A) Text style
B) Text
C) Hatch
D) Mtext
E) Edit

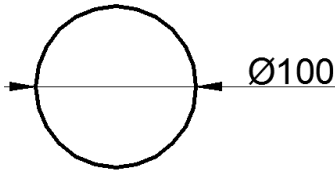
43.  Yandaki çizgi hangi komutla çizilebilir?

- A) Pline
B) Spline
C) Line
D) Circle
E) Donut

44. Çizim yaparken nesneleri bütün olarak çizebilen, çizim esnasında çizgi kalınlığını değiştirebilen ayrıca çizime yaylarla devam edilebilmesine olanak sağlayan komut aşağıdakilerden hangisidir?

- A) Polyline B) Polygon
C) Rectangle D) Line
E) Arc

45.



Yukarıdaki çemberin çizim işlemi ekranda rastgele bir yere sırasıyla nasıl yapılır?

- A) 1. Circle komutu seçilir. 2. Çemberin merkezi tıklanır. 3. R=100 girilir.
B) 1. Polygon komutu seçilir. 2. Çemberin merkezi tıklanır. 3. R=100 girilir.
C) 1. Polygon komutu seçilir. 2. Çemberin merkezi tıklanır. 3. R=50 girilir.
D) 1. Circle komutu seçilir. 2. Çemberin merkezi tıklanır. 3. R=50 girilir.
E) 1. Circle komutu seçilir. 2. İki teğet noktası işaretlenir. 3. R=100 girilir.

46. AutoCAD'de çizilmiş kapalı nesneleri (çokgen, çember gibi) bölgeye dönüştüren aşağıdakilerden hangisidir?

- A) Stretch B) Command
C) Union D) Region
E) Regen

47. AutoCAD 2015 ile kaç farklı şekilde çokgen çizilebilir?

- A) 2 B) 3
C) 4 D) 5
E) 6

48. "Specify base point" kavramının anlamı aşağıdakilerden hangisidir?

- A) Nesnelere seç
B) Nesnelere yakala
C) Uzantısından yakala
D) Kesişim noktasından yakala
E) Yapılacak işlemin temel noktasını belirle

49. Ardışık birleşik çizgi çizmek için kullanılan komut aşağıdakilerden hangisidir?

- A) Arc B) Center
C) Polyline D) Rotation
E) Ellipse






50.  Draw çekme menüsünde yer alan yan taraftaki simge hangi komutu çalıştırır?

- A) Multiline B) Parallel
C) Hatch D) Spline
E) Polyline






51.  Draw panelinde yer alan yan taraftaki simge hangi komutu çalıştırır?

- A) Circle B) Arc
C) Ellipse D) Donut
E) Ellipse arc

52. Polygon komutunun simgesi aşağıdakilerden hangisidir?

- A)  B) 
C)  D) 
E) 

53. Xline komutunun simgesi aşağıdakilerden hangisidir?

- A)  B) 
- C)  D) 
- E) 

54. AutoCAD'de çizilmiş nesnelere düzenlemeye yarayan komutlar hangi çekme menüsü altında toplanmıştır?

- A) Modify B) Dimension
C) Help D) File
E) Draw

55. Aşağıdakilerden hangisi Modify panelinde yer alan bir komuttur?

- A) Zoom B) Radius
C) Regen D) Rotate
E) Arc

56. Nesnelere döndürmeyi sağlayan komut aşağıdakilerden hangisidir?

- A) Align B) Rotate
C) Mirror D) Copy
E) Chamfer

57. Çizgileri herhangi bir nesneyle kesiştiği yerden budamaya yarayan komut aşağıdakilerden hangisidir?

- A) Explode B) Cut
C) Extend D) Copy
E) Trim

58. AutoCAD'de çizilmiş bir nesneyi başka bir nesneye göre hizalayan komut aşağıdakilerden hangisidir?

- A) Move B) Copy
C) Offset D) Divide
E) Align

59. AutoCAD'de çizilen nesnelere köşelerini yuvarlatmak için kullanılan komut aşağıdakilerden hangisidir?

- A) Circle B) Chamfer
C) Fillet D) Join
E) Elipse Arc

60. Aşağıdakilerden hangisiyle bir merkez etrafında çoklu kopyalama yapılır?

- A) Copy B) Polar Array
C) Path Array D) Align
E) Rectangular Array

61. Offset komutunun işlem sırası aşağıdakilerden hangisidir?

- A) Komut girilir - Nesne seçilir - Enter - Yön belirlenir - Ölçü girilir - Enter
B) Komut girilir - Ölçü girilir - Enter - Nesne seçilir - Yön belirlenir
C) Komut girilir - Ölçü girilir - Enter - Nesne seçilir - Enter - Yön belirlenir.
D) Komut girilir - Nesne seçilir - Enter - Ölçü girilir - Enter - Yön belirlenir.
E) Komut girilir - Nesne seçilir - Yön belirlenir - Ölçü girilir.

62. Array ile çoğaltılan nesnelere birbiriyle ilişkisini kesmek için komutun hangi alt parametresiyle bir düzenleme yapılır?

- A) Associative B) Items
C) Levels D) Rows
E) Columns

63. AutoCAD'de nesnelerin köşelerine radius oluşturma komutu aşağıdakilerden hangisidir?

- A) Edit text
B) Chamfer
C) Fillet
D) Circle
E) Rectangle

64. Aşağıdakilerden hangisi patlatılabilir?

- A) Line
B) Circle
C) Arc
D) Hatch
E) Ellipse

65. Lenghten komutu aşağıdakilerden hangisini yapamaz?

- A) Çizgileri döndürür.
B) Çizginin uzunluğunu gösterir.
C) Çizginin uzunluğunu belirtilen uzunluğa eşitler.
D) Çizginin uzunluğunu belirtilen miktarda uzatır veya kısaltır.
E) Çizginin uzunluğunu istediğimiz bir orana göre ölçeklendirir.

66. Boundary kelimesi aşağıdakilerden hangisine karşılık gelmektedir?

- A) Sınır
B) Uzatmak
C) Budamak
D) Patlatmak
E) Hizalamak

67. Çizgilerin üzerinde fare ile tıklanan iki nokta arasında kalan kısmını koparan komut aşağıdakilerden hangisidir?

- A) Lenghten
B) Stretch
C) Break at Point
D) Rotate
E) Break

68. Çoklu çizgi düzenleme komutu aşağıdakilerden hangisidir?

- A) Pedit
B) Splinedit
C) Mledit
D) Join
E) Hatchedit

69. Çizgileri belirtilen bir noktadan kırarak iki parçaya bölen komut aşağıdakilerden hangisidir?

- A) Lenghten
B) Matchprop
C) Break
D) Rotate
E) Break at Point






70.  Modify panelinde yer alan yan taraftaki simge hangi komutu çalıştırır?

- A) Break
B) Join
C) Blend
D) Explode
E) Boundary

71.  Modify çekme menüsünde yer alan yan taraftaki simge hangi komutu çalıştırır?

- A) Spline
B) Join
C) Blend Curves
D) Rotate
E) Revision Cloud

72. Rotate komutunun simgesi aşağıdakilerden hangisidir?

- A)  B) 
C)  D) 
E) 

73. AutoCAD'de verilen çizgi kalınlıklarının görünüp veya gizlenmesini kontrol eden çizim yardımcısı aşağıdakilerden hangisidir?

- A) OSnap
- B) Transparency
- C) Dynamic UCS
- D) Selection Cycling
- E) Show/Hide Lineweight

74. Çizim alanında nesnelere üst üste gelmişse, seçim yaparken üst üste olan nesnelere ayrı bir pencerede listelerek doğru seçim yapmayı sağlayan çizim yardımcısı aşağıdakilerden hangisidir?

- A) Transparency
- B) Dynamic Input
- C) Quick Properties
- D) Selection Cycling
- E) Object Snap Tracking

75.  Status Bar (Durum Çubuğu) üzerinde yer alan yan taraftaki simge aşağıdaki çizim yardımcılarında hangisini çalıştırır?

- A) Ortho
- B) Transparency
- C) Polar Tracking
- D) Dynamic Input
- E) Object Snap Tracking

76. Nesnelere otomatik kenetlenme noktalarının (OSnap) izlerini, noktalı ve yeşil bir çizgi ile görüntüleyen çizim yardımcısı aşağıdakilerden hangisidir?

- A) Transparency
- B) Dynamic Input
- C) Quick Properties
- D) Selection Cycling
- E) Object Snap Tracking

77. OSnap komutlarından "Node" aşağıdakilerden hangisini yapar?

- A) Merkeze kenetlenir.
- B) Noktaya kenetlenir.
- C) Paralel kenetlenir.
- D) Dikine kenetlenir.
- E) Teğet kenetlenir.

78. Aşağıdaki OSnap komutlarından hangisinin işlevi yanlış yazılmıştır?

- A) Tangent, teğet yakalar.
- B) Center, dairesel çizimlerde merkezi yakalar.
- C) End point, çizimin orta noktasından yakalar.
- D) Parallel, belirtilen bir çizgiye paralel açı yakalar.
- E) Apperant Intersect, iki çizginin uzantılarının kesişiminden yakalar.






79.  Yan tarafta verilen simge hangi OSnap komutunu çalıştırır?

- A) Insertion
- B) Nearest
- C) Extension
- D) Parallel
- E) Endpoint






80.  Yan tarafta verilen simge hangi OSnap komutunu çalıştırır?

- A) Endpoint
- B) Nearest
- C) Extension
- D) Parallel
- E) Insertion






81. Nesnelere orta noktalarına kenetlenme işareti aşağıdakilerden hangisidir?

- A) 
- B) 
- C) 
- D) 
- E) 

82. Daire ve yayların çeyrek noktalarına kenetlenme işareti aşağıdakilerden hangisidir?

- A)  B) 
 C)  D) 
 E) 

83. Bir çizgiye 90 derecelik açıyla kenetlenme işareti aşağıdakilerden hangisidir?

- A)  B) 
 C)  D) 
 E) 

84. Çizim alanında belirlenen iki noktanın ortası aşağıdakilerden hangisiyle bulunabilir?

- A) Quadrant B) Intersection
 C) Apperent D) Otrack
 E) Mid Between 2 Points

85. Hiç katman ayarlanmazsa hangi katmanla çizimler yapılır?

- A) Yazı B) Eksen
 C) Çizim D) 0
 E) Tarama

86. Layerlerin renkleri aşağıdakilerden hangisiyle değiştirilir?

- A) Linetype B) Lineweight
 C) Name D) Color
 E) Plot

87.  Yan tarafta simgesi verilen Dimensions aracı aşağıdaki hangi komutu çalıştırır?

- A) Dimdiameter B) Dimradius
 C) Dimjogged D) Dimcenter
 E) Dimarc

88.  Yan tarafta simgesi verilen Dimensions aracı aşağıdaki hangi komutu çalıştırır?

- A) Dimlinear B) Dimaligned
 C) Dimcontinue D) Dimangular
 E) Inspection

89.  Yan tarafta simgesi verilen Dimensions aracı aşağıdaki hangi komutu çalıştırır?

- A) Dimlinear B) Dimbreak
 C) Dimordinate D) Dimbaseline
 E) Dimuptade






90.  Yan tarafta simgesi verilen Dimensions aracı aşağıdaki hangi komutu çalıştırır?

- A) Dimbreak B) Dimaligned
 C) Dimspace D) Tolerance
 E) Dimedit






91.  Yan tarafta simgesi verilen Dimensions aracı aşağıdaki hangi komutu çalıştırır?

- A) Dimatch B) Dimedit
 C) Dimtedit D) Dimlinear
 E) Dimstyle

92. Aşağıdaki komutlardan hangisi ile yayların uzunluğu ölçülür?

- A)  B) 
C)  D) 
E) 

93. Aşağıdaki komutlardan hangisi ile ölçü düzenlemesi yapılabilir?

- A)  B) 
C)  D) 
E) 

94. Açısal ölçülendirme yapan komut aşağıdakilerden hangisidir?

- A) Dimangular B) Dimradius
C) Open D) Donut
E) Angle

95. Quick dimension aşağıdakilerden hangisini yapar?

- A) Çember veya yayların merkezine hızlı bir şekilde mark işareti koyar.
B) Seçilen nesnelere X ve Y eksenine paralel hızlı ölçülendirme yapar.
C) Hızlı ölçülendirme stili oluşturulur.
D) Hızlı ölçülendirme yapar.
E) Açıları ölçülendirir.

96. Aşağıdakilerden hangisi ölçülendirme menüsüdür?

- A) View B) Layer
C) Polyline D) Array
E) Dimension

97. Yatay ve dikey ölçülendirme yapılmasını sağlayan ölçülendirme komutu aşağıdakilerden hangisidir?

- A) Dimlinear B) Dimaligned
C) Dimcontinue D) Dimangular
E) Inspection

98. Eğik çizgilere paralel ölçülendirme yapılmasını sağlayan komut aşağıdakilerden hangisidir?

- A) Dimlinear B) Dimaligned
C) Dimcontinue D) Dimangular
E) Inspection

99. Ölçülendirme yapıldıktan sonra ölçü yazısının yerini ve açısını ayarlayan komut aşağıdakilerden hangisidir?

- A) Dimedit B) Dimstyle
C) Dimcontinue D) Dimtedit
E) Inspection

100. Aşağıdakilerden hangisi mesafe anlamına gelir?

- A) Area B) Inquiry
C) Distance D) Width
E) List

SINAV SÜRESİNCE UYULACAK KURALLAR

- 1. Adaylar, sınav kurallarına ve salon görevlilerinin tüm uyarılarına uymak zorundadırlar. Kurallara ve uyarılara uymayan adayların sınavları geçersiz sayılacaktır.**
- 2. Sınav başladıktan sonra adayların salon görevlileri ve birbirleri ile konuşmaları, kalem, silgi vb. şeyleri istemeleri yasaktır.**
- 3. Adaylar sınav süresince, sınav giriş belgesi ile birlikte geçerli kimlik belgelerinden birini (fotoğraflı nüfus cüzdanı, pasaport veya sürücü belgesini) masalarının üzerinde bulundurmamak zorundadırlar.**
- 4. Sınav evraklarını teslim etmeyen, soru kitapçıklarının sayfalarından bir kısmını eksik teslim edenlerin sınavları geçersiz sayılacaktır.**

SALON GÖREVLİLERİNCE SINAV BAŞLAMADAN ÖNCE ADAYLARA YAPILACAK SON UYARILAR

- Soracağınız bir şey varsa şimdi sorunuz, sınav başladıktan sonra sorularınıza cevap verilmeyecektir.
- Başlama zilini bekleyiniz.

Hepinize başarılar dileriz.

(Salon başkanı başlama ve bitiş saatini tahtaya yazacaktır.)

Bu kitapçığın her hakkı saklıdır. Hangi amaçla olursa olsun, kitapçığın tamamının veya bir kısmının Millî Eğitim Bakanlığı Ölçme, Değerlendirme ve Sınav Hizmetleri Genel Müdürlüğünün yazılı izni olmadan kopya edilmesi, fotoğraflarının çekilmesi, bilgisayar ortamına alınması, herhangi bir yolla çoğaltılması, yayımlanması veya başka bir amaçla kullanılması yasaktır. Bu yasağa uymayanlar, doğabilecek cezai sorumluluğu ve kitapçığın hazırlanmasındaki mali külfeti peşinen kabullenmiş sayılır.

07 EKİM 2017 TARİHİNDE YAPILAN

HAYAT BOYU ÖĞRENME GENEL MÜDÜRLÜĞÜ MESLEKİ VE TEKNİK AÇIK ÖĞRETİM OKULU
ELGİNKAN VAKFI BİLGİSAYAR DESTEKLİ 2 BOYUTLU ÇİZİM AUTOCAD 13. GRUP (2017/BDPÇ-2) SINAVI

A SORU KİTAPÇIĞI CEVAP ANAHTARI

1. E	26. E	51. E	76. E
2. A	27. C	52. B	77. B
3. B	28. E	53. D	78. C
4. C	29. E	54. A	79. D
5. E	30. C	55. D	80. A
6. B	31. D	56. B	81. B
7. D	32. A	57. E	82. D
8. A	33. B	58. E	83. C
9. B	34. A	59. C	84. E
10. C	35. E	60. B	85. D
11. D	36. D	61. B	86. D
12. D	37. A	62. A	87. A
13. E	38. C	63. C	88. B
14. C	39. C	64. D	89. C
15. A	40. E	65. A	90. A
16. B	41. C	66. A	91. E
17. C	42. B	67. E	92. E
18. D	43. B	68. C	93. B
19. B	44. A	69. E	94. A
20. E	45. D	70. B	95. B
21. D	46. D	71. C	96. E
22. A	47. B	72. A	97. A
23. B	48. E	73. E	98. B
24. E	49. C	74. D	99. D
25. D	50. A	75. C	100. C